

Система оценивания диагностической работы

Полный правильный ответ на каждое из заданий 1.1, 1.2, 3, 6.1, 7.3, 7.4, 8.1, 8.2, 8.3, 8.4 оценивается **1 баллом**. Если в ответе допущена хотя бы одна ошибка (один из элементов ответа записан неправильно или не записан), выставляется 0 баллов.

Полный правильный ответ на каждое из заданий 2.1, 2.3, 5.1, 6.3, оценивается **2 баллами**. Если в ответе допущена одна ошибка, выставляется 1 балл; если допущено две или более ошибки – 0 баллов.

Номер задания	Правильный ответ
1.1	3142
1.2	2314
2.1	Южная Америка – 36 Африка – 15 Евразия – 24 (в любой последовательности)
2.3	Швеция, Марокко ИЛИ 45 (в любой последовательности)
3	351
5.1	145 (в любой последовательности)
6.1	А – лесная промышленность Б – рыбная промышленность В – горнодобывающая промышленность / алмазодобывающая промышленность / добыча алмазов Г – морской транспорт
6.3	134 (в любой последовательности)
7.3	с 2010 по 2014 г.
7.4	на 55 % (допускается ответ 54%)
8.1	312546
8.2	А
8.3	136 (в любой последовательности)
8.4	1221

1

1.3. Прочитайте текст, рассмотрите фотографию, сделанную в одной из представленных в таблице 1 стран, и укажите **название** этой страны.

Используя данные таблицы 1 рассчитайте плотность населения указанной Вами страны. Округлите результат до целого числа и запишите его в ответе.

Выберите из приведённого списка субъект Российской Федерации, по территории которого проходит граница России с указанной Вами страной. Запишите в ответе его название.

*Кабардино-Балкарская Республика, Республика Бурятия, Смоленская область,
Республика Карелия.*

Содержание верного ответа и указания по оцениванию	Баллы
Правильный ответ должен содержать следующие <u>элементы</u> : 1) <u>название страны</u> : Монголия ИЛИ 2; 2) <u>плотность населения этой страны</u> : 2 человека/км ² ; 3) <u>название субъекта Российской Федерации</u> : Республика Бурятия	
1. Указание названия страны	
Название страны указано правильно	1
Название страны не указано / указано неправильно	0
<i>Если название страны не указано / указано неправильно, то за выполнение всего задания выставляется 0 баллов</i>	
2. Расчёт плотности населения	
Правильно рассчитана плотность населения	1
Плотность населения не рассчитана / рассчитана неправильно	0
3. Указание названия субъекта Российской Федерации	
Правильно указано название субъекта Российской Федерации	1
Название субъекта Российской Федерации не указано / указано неправильно	0
<i>Максимальный балл</i>	3

2

2.2. Ниже представлена «визитная карточка» одной из представленных в перечне стран. Укажите **название** этой страны в её «визитной карточке». Выделите штриховкой указанную Вами страну на политической карте мира, приведённой на странице 4.



Содержание верного ответа и указания по оцениванию	Баллы
Правильный ответ должен содержать следующие <u>элементы</u> : 1) <u>название страны</u> в «визитной карточке»: Испания; 2) <u>выделение страны на карте</u>	
Правильно указано название страны в «визитной карточке», страна на карте выделена правильно	2
Правильно указано название страны в «визитной карточке», страна на карте не выделена / выделена неправильно	1
Название страны в «визитной карточке» не указано / указано неправильно независимо от наличия/отсутствия выделения страны на карте. ИЛИ Ответ неправильный	0
<i>Максимальный балл</i>	2

- 4 На территории России и многих стран мира, богатых лесными ресурсами, одно из страшных бедствий – лесные пожары, в результате которых сокращаются площади лесов. Вырубка лесов также приводит к истощению этого важнейшего ресурса. Какие проблемы связаны с сокращением лесных площадей в мире? Укажите не менее двух проблем.

Содержание верного ответа и указания к оцениванию	Баллы
В правильном ответе могут быть указаны следующие <u>проблемы</u> : 1) сокращение количества кислорода в атмосфере Земли; 2) нарушение водного баланса территорий на месте гибели лесов; 3) изменение состава растительности территорий на месте гибели лесов; 4) изменение состава или гибель животного мира лесов. Проблемы могут быть приведены в иных, близких по смыслу формулировках	
Правильно <u>указано</u> не менее двух проблем	2
Правильно <u>указана</u> только одна любая проблема	1
Проблемы не указаны. ИЛИ Ответ <u>неправильный</u>	0
<i>Максимальный балл</i>	2

- 5 5.2. К каким межотраслевым комплексам относятся выбранные Вами отрасли промышленности, и какие факторы определяют размещение предприятий этих отраслей в городе *N*? Ответ оформите в виде таблицы.

Отрасль промышленности	Межотраслевой комплекс	Фактор размещения
<i>нефтеперерабатывающая</i>	<i>ТЭК / топливно-энергетический комплекс</i>	<i>транспортный</i>
<i>мукомольно-крупяная</i>	<i>АПК / агропромышленный комплекс</i>	<i>сырьевой</i>
<i>алюминиевая</i>	<i>металлургический комплекс</i>	<i>энергетический</i>

Указания по оцениванию	Баллы
Все ячейки таблицы заполнены правильно (порядок указания отраслей промышленности может быть любым)	3
В таблице правильно указаны три отрасли промышленности, межотраслевые комплексы и факторы размещения для двух любых отраслей промышленности. ИЛИ В таблице правильно указаны три отрасли промышленности, в других ячейках допущено не более одной ошибки / одна ячейка не заполнена	2
В таблице правильно указаны две-три отрасли промышленности, межотраслевой комплекс и фактор размещения только для одной отрасли промышленности. ИЛИ В таблице правильно указаны две отрасли промышленности, в других ячейках допущено не более одной ошибки / одна ячейка не заполнена	1
Все ситуации, не предусмотренные правилами выставления 3, 2 и 1 балла	0
<i>Максимальный балл</i>	3

- 6** 6.2. Выберите из предложенного списка регион России, для которого все представленные на фотографиях в задании 6.1 отрасли экономики являются ведущими. Запишите в ответе название региона.

Поволжье, Европейский Юг, Дальний Восток, Западная Сибирь.

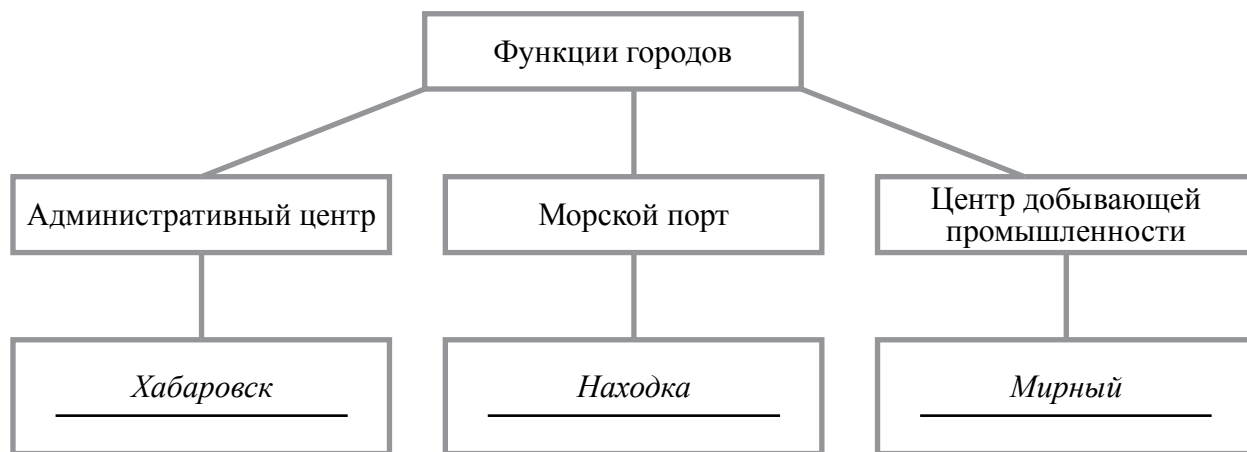
Выделите штриховкой на карте России, приведённой на странице 9, выбранный Вами регион.



Содержание верного ответа и указания по оцениванию	Баллы
<p>На фотографиях в задании 6.1 представлены отрасли: А – лесная промышленность; Б – рыбная промышленность; В – горнодобывающая промышленность / алмазодобывающая промышленность / добыча алмазов; Г – морской транспорт.</p> <p>Правильный ответ должен содержать следующие <u>элементы</u>:</p> <p>1) <u>название региона</u>: Дальний Восток; 2) <u>выделение региона на карте</u></p>	
1. Указание названия региона	
Название региона указано правильно	1
Название региона не указано / указано неправильно	0
<i>Если название региона не указано / указано неправильно, то за выделение региона на карте выставляется 0 баллов</i>	
2. Выделение региона на карте	
Регион выделен на карте правильно	1
Регион на карте не выделен / выделен неправильно	0
<i>Максимальный балл</i>	2

6.4. Выберите из приведённого ниже списка города, расположенные на территории выбранного Вами региона, и запишите их названия в соответствующие ячейки на схеме.

Мурманск, Находка, Иркутск, Екатеринбург, Хабаровск, Астрахань, Норильск, Мирный.



Указания по оцениванию	Баллы
Названия трёх городов на схеме записаны правильно	2
Названия только двух городов на схеме записаны правильно	1
Название только одного города на схеме записано правильно. ИЛИ Ответ неправильный	0
<i>Максимальный балл</i>	2

7

7.1. На какой отрасли сельского хозяйства специализируется данный район?

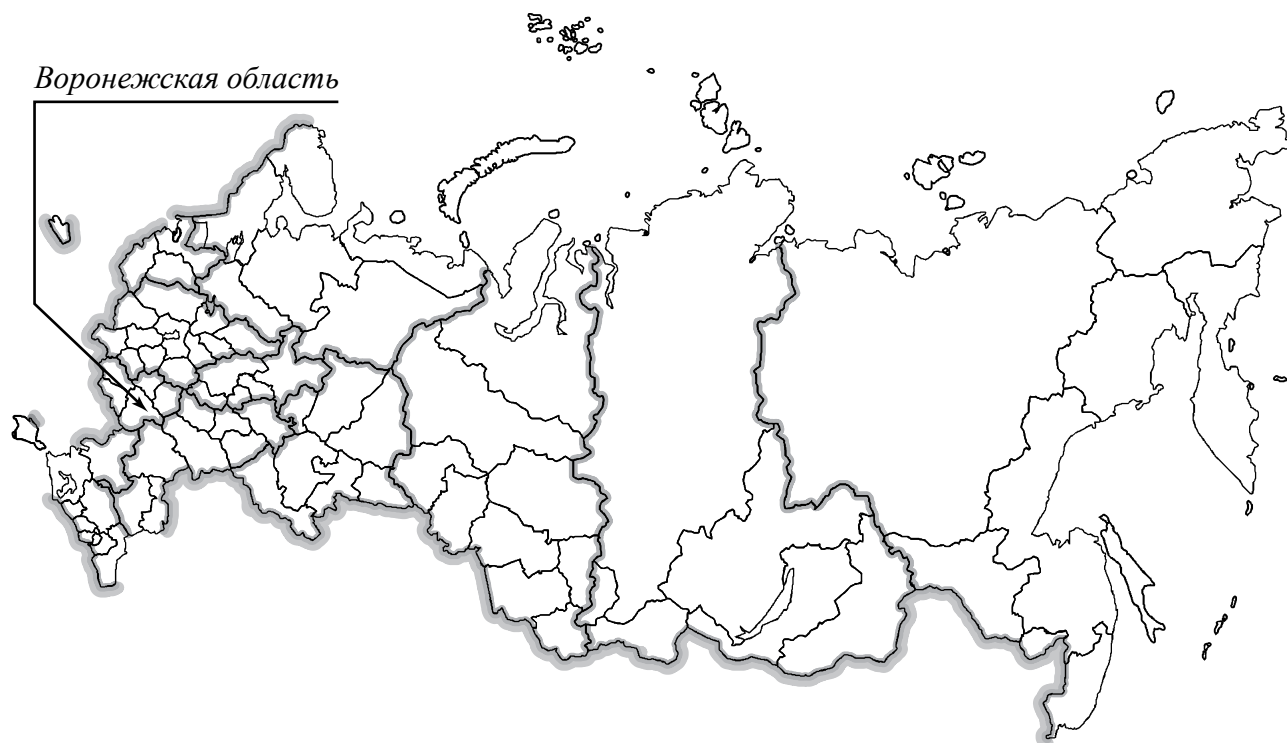
Сырьём для какой отрасли промышленности является сельскохозяйственная культура, которая выращивается в данном районе?

Содержание верного ответа и указания по оцениванию	Баллы
Правильный ответ должен содержать следующие <u>элементы</u> : 1) указание <u>отрасли сельского хозяйства</u> : район специализируется на зерновом хозяйстве / растениеводстве; 2) указание <u>отрасли промышленности</u> : для мукомольно-крупяной/пищевой промышленности. Элементы ответа могут быть приведены в иных, близких по смыслу формулировках	
Правильно указаны отрасли сельского хозяйства и промышленности	2
Правильно указана только отрасль сельского хозяйства	1
Отрасль сельского хозяйства не указана / указана неправильно независимо от указания отрасли промышленности. ИЛИ Ответ неправильный	0
<i>Максимальный балл</i>	2

7.2. Выберите из предложенного списка субъект Российской Федерации, в котором может быть расположен данный район. Запишите в ответе название субъекта.

Сахалинская область, Воронежская область, Мурманская область, Забайкальский край.

Подпишите на карте России, приведённой на странице 9, выбранный Вами субъект Российской Федерации.



Содержание верного ответа и указания по оцениванию	Баллы
Правильный ответ должен содержать следующие <u>элементы</u> : 1) <u>название субъекта Российской Федерации</u> : Воронежская область; 2) <u>подпись субъекта Российской Федерации на карте</u>	
Правильно указано название субъекта Российской Федерации, субъект Российской Федерации подписан на карте правильно	2
Правильно указано название субъекта Российской Федерации, субъект Российской Федерации на карте не подписан / подписан неправильно. ИЛИ Название субъекта Российской Федерации в ответе не указано, субъект Российской Федерации подписан на карте правильно	1
Название субъекта Российской Федерации указано неправильно независимо от правильности подписи на карте. ИЛИ Ответ неправильный	0
<i>Максимальный балл</i>	2

9

9.1. Какие виды продукции экспорта представлены на диаграммах обеих стран?

Какие виды сельскохозяйственной продукции, представленные на диаграмме, занимают ведущее место в экспорте Индии?

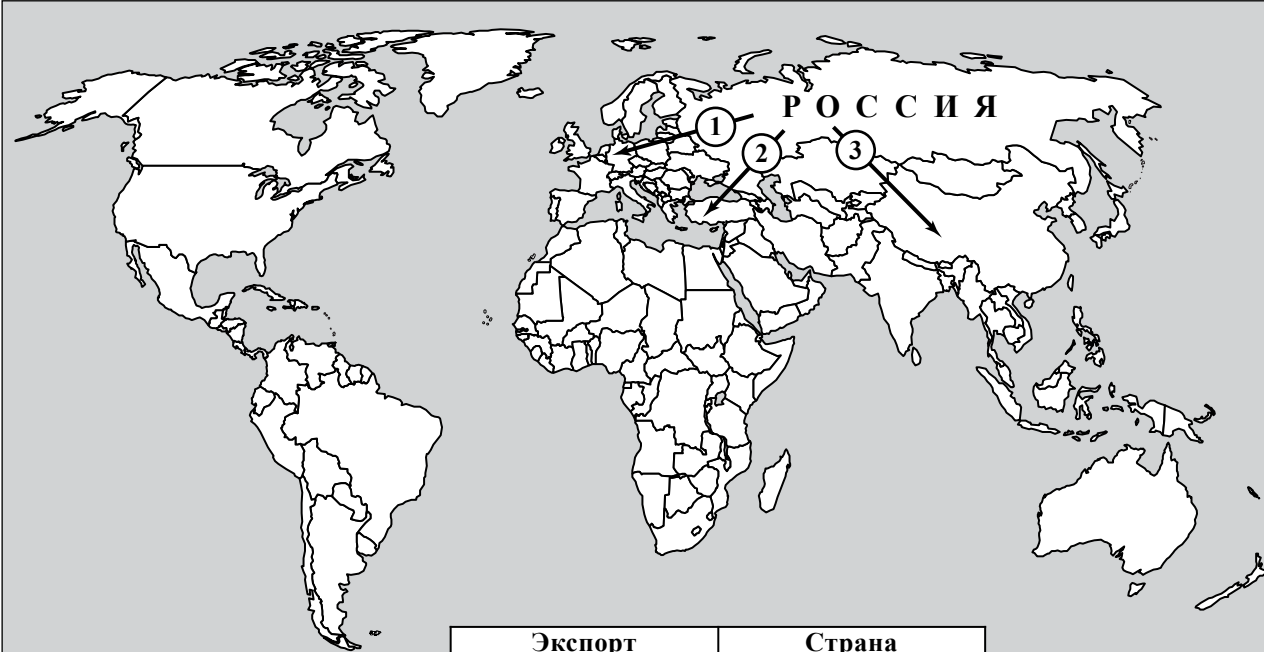
Какой вид продукции преобладает в структуре экспорта России?

Содержание верного ответа и указания по оцениванию	Баллы
Правильный ответ должен содержать следующие <u>элементы</u> : 1) <u>ответ на первый вопрос</u> : нефтепродукты, металлы; 2) <u>ответ на второй вопрос</u> : чай, рис; 3) <u>ответ на третий вопрос</u> : нефть	
Правильно даны ответы на три вопроса	2
Правильно даны ответы на два любых вопроса. ИЛИ Даны ответы на три вопроса, в ответе на первый вопрос содержится одна ошибка / не указан один из видов продукции	1
Правильно дан ответ только на один любой вопрос. ИЛИ Все ситуации, не предусмотренные правилами выставления 2 и 1 балла	0
<i>Максимальный балл</i>	2

9.2. На основе диаграммы укажите отрасли международной специализации Индии. Запишите в ответе не менее трёх отраслей.

Содержание верного ответа и указания по оцениванию	Баллы
Правильный ответ должен содержать <u>указание отраслей международной специализации Индии</u> , например: алмазодобывающая промышленность / добыча алмазов; текстильная промышленность; фармацевтическая промышленность. И/ИЛИ Металлургия; нефтеперерабатывающая промышленность; производство ювелирных изделий; швейная промышленность; сельское хозяйство / выращивание риса/чая. Названия отраслей могут быть приведены в иных, близких по смыслу формулировках	
Правильно указаны три отрасли	2
Правильно указаны только две отрасли	1
Правильно указана только одна отрасль. ИЛИ Ответ неправильный	0
<i>Максимальный балл</i>	2

9.3. На политической карте мира, приведённой на странице 4, стрелками показаны направления экспорта некоторых товаров из России. Запишите в таблицу, представленную на карте, названия соответствующих стран – импортёров российских товаров.



Экспорт	Страна
1 – нефть	Германия
2 – природный газ	Турция
3 – древесина	Китай

Содержание верного ответа и указания по оцениванию	Баллы
Правильный ответ должен содержать <u>указание в таблице стран – импортёров российских товаров</u> : нефть – Германия; природный газ – Турция; древесина – Китай	
Правильно указаны три страны	2
Правильно указаны только две страны	1
Правильно указана только одна страна. ИЛИ Ни одна из стран не указана / все три страны указаны неправильно	0
<i>Максимальный балл</i>	2

Система оценивания выполнения всей работы

Максимальный балл за выполнение работы – 42.

Рекомендации по переводу первичных баллов в отметки по пятибалльной шкале

Отметка по пятибалльной шкале	«2»	«3»	«4»	«5»
Первичные баллы	0–9	10–29	30–37	38–42